

# Математически турнир „Иван Салабашев“

2 декември 2017 г.


Тема за 1 клас

(време за работа 60 минути)

След всяка задача има 4 отговора, само един от които е верен. Верен отговор се оценява с 6 точки. Неверен или непосочен отговор носи 0 точки.

①  $3 + 6 = \heartsuit$                        $7 - 5 = \diamond$                        $\heartsuit - \diamond = ?$   
А) 9      Б) 8      В) 7      Г) 6

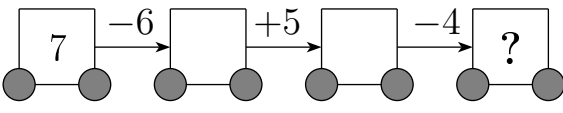
②



Коя пчела НЕ стига до кошера?

А) 1      Б) 2      В) 3      Г) 4

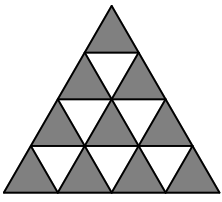
③



Кое число е в последния вагон?

А) 1      Б) 2      В) 3      Г) 4

④



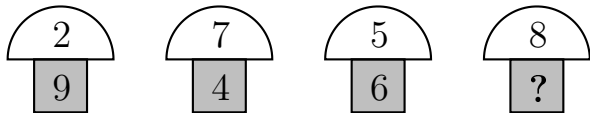
$\blacktriangle - \nabla = ?$

От броя на  $\blacktriangle$  извади броя на  $\nabla$ !

А) 4      Б) 5      В) 6      Г) 7

⑤  $2 + 2 + 2 + 2 = \circledast - 2$                        $\circledast = ?$   
А) 10      Б) 8      В) 6      Г) 4

6



Кое число липсва?


- A) 0    Б) 1    В) 2    Г) 3

7

$$\begin{array}{r} \boxed{3} \\ + \\ \boxed{5} + \boxed{\phantom{0}} = \heartsuit \\ \parallel \\ \boxed{7} \end{array} \quad \begin{array}{r} \boxed{6} \\ + \\ \boxed{3} + \boxed{\phantom{0}} = \ast \\ \parallel \\ \boxed{8} \end{array} \quad \heartsuit - \ast = ?$$

- A) 1    Б) 2    В) 3    Г) 4

8



Коя линия свързва цветята по реда на числата в тях?



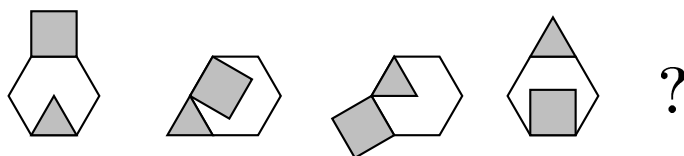
9

$$\ast + \square = ?$$

8, 1, 6, 2, 4, 3, 2, 4,  $\ast$ ,  $\square$

- A) 4    Б) 5    В) 6    Г) 7

10



Коя е следващата картинка?

